

Всероссийская проверочная работа
по профильному учебному предмету «МАТЕМАТИКА»
для обучающихся первых курсов по очной форме обучения по образовательным
программам среднего профессионального образования на базе основного общего
образования

Вариант 66665

Инструкция по выполнению работы

На выполнение работы по математике отводится 2 часа (120 минут). Работа включает в себя 15 заданий.

Ответы на задания запишите в поля ответов в тексте работы. В случае записи неверного ответа зачеркните его и запишите рядом новый.

При выполнении работы не разрешается пользоваться учебниками, рабочими тетрадями, справочниками, калькулятором.

При необходимости можно пользоваться черновиком. Записи в черновике проверяться и оцениваться не будут.

Советуем выполнять задания в том порядке, в котором они даны. Для экономии времени пропускайте задание, которое не удаётся выполнить сразу, и переходите к следующему. Если после выполнения всей работы у Вас останется время, то Вы сможете вернуться к пропущенным заданиям.

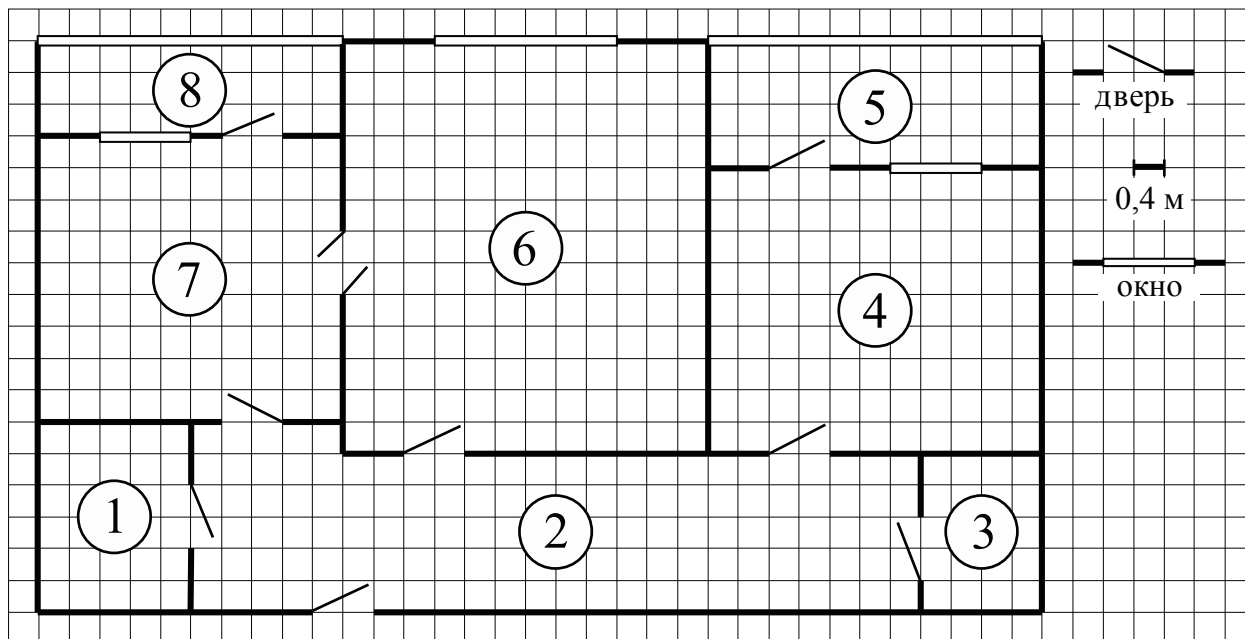
Баллы, полученные Вами за выполненные задания, суммируются. Постарайтесь выполнить как можно больше заданий и набрать наибольшее количество баллов.

Желаем успеха!

Таблица для внесения баллов участника

Номер задания	1	2	3	4	5	6	7	8	9	10	11	12	13	14	15	Сумма баллов	Отметка за работу
Баллы																	

Прочитайте внимательно текст и выполните задания 1–5.



На рисунке изображён план двухкомнатной квартиры в многоэтажном жилом доме. Сторона одной клетки на плане соответствует 0,4 м, а условные обозначения двери и окна приведены в правой части рисунка.

Вход в квартиру находится в коридоре. Слева от входа в квартиру находится санузел, а в противоположном конце коридора — дверь в кладовую. Рядом с кладовой находится спальня, из которой можно пройти на одну из застеклённых лоджий. Самое большое по площади помещение — гостиная, откуда можно попасть в коридор и на кухню. Из кухни также можно попасть на застеклённую лоджию.

1

Для объектов, указанных в таблице, определите, какими цифрами они обозначены на плане. Запишите в таблицу цифры под названиями соответствующих объектов.

Объекты	кладовая	санузел	кухня	спальня
Цифры				

2

Паркетная доска размером 20 см на 80 см продаётся в упаковках по 14 штук. Сколько упаковок паркетной доски понадобилось, чтобы выложить пол в гостиной?

Ответ: _____.

3

Найдите площадь спальни. Ответ дайте в квадратных метрах.

Ответ: _____.

4

На сколько процентов площадь спальни больше площади лоджии, примыкающей к спальне?

Ответ: _____.

5

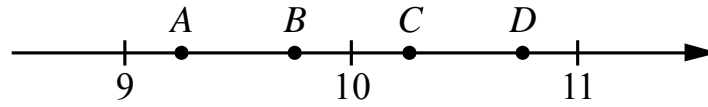
В квартире планируется заменить электрическую плиту. Характеристики электроплит, условия подключения и доставки приведены в таблице. Планируется купить электрическую плиту глубиной 60 см с максимальной температурой не менее 270°C.

Мо- дель	Объём духовки (л)	Макси- мальная темпера- тура (°C)	Стои- мость плиты (руб.)	Стоимость подклю- чения (руб.)	Стоимость доставки (% от стоимости плиты)	Габариты (высота × ширина × глубина, см)
А	50	280	8890	1700	бесплатно	85×50×54
Б	50	300	9790	750	10	85×50×54
В	50	250	11 690	700	10	85×60×60
Г	52	250	17 490	800	10	85×60×60
Д	70	275	17 990	1400	бесплатно	85×60×45
Е	58	250	18 890	1500	бесплатно	85×50×60
Ж	54	270	18 900	750	15	85×50×60
З	46	250	20 990	750	10	87×50×60
И	70	275	21 690	1500	бесплатно	85×50×60
К	67	250	22 990	1500	бесплатно	85×50×60

Сколько рублей будет стоить наиболее дешёвый подходящий вариант вместе с подключением и доставкой?

Ответ: _____.

6 На координатной прямой отмечены точки A, B, C, D . Одна из них соответствует числу $\sqrt{85}$. Какая это точка?



- 1) точка A 2) точка B 3) точка C 4) точка D

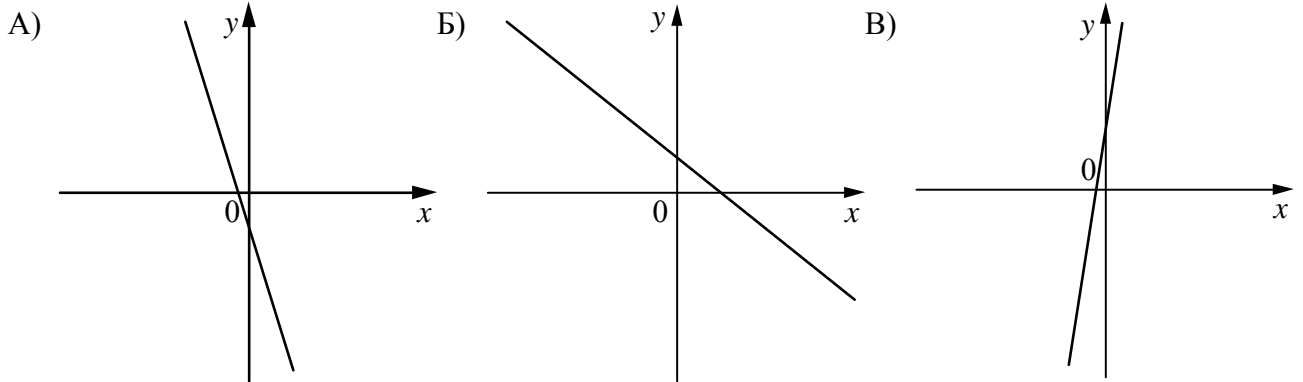
Ответ:

7 В фирме такси в данный момент свободно 30 машин: 6 чёрных, 3 жёлтых и 21 зелёная. По вызову выехала одна из машин, случайно оказавшаяся ближе всего к заказчику. Найдите вероятность того, что к нему приедет жёлтое такси.

Ответ: _____.

8 На рисунках изображены графики функций вида $y = kx + b$. Установите соответствие между графиками функций и знаками коэффициентов k и b .

ГРАФИКИ



КОЭФФИЦИЕНТЫ

- 1) $k < 0, b > 0$ 2) $k < 0, b < 0$ 3) $k > 0, b > 0$

В таблице под каждой буквой укажите соответствующий номер.

Ответ:

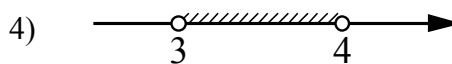
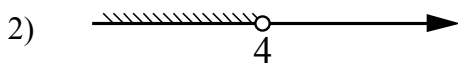
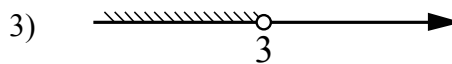
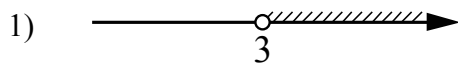
А	Б	В

9 Центробежное ускорение при движении по окружности (в м/с^2) вычисляется по формуле $a = \omega^2 R$, где ω — угловая скорость (в с^{-1}), R — радиус окружности (в метрах). Пользуясь этой формулой, найдите радиус R , если угловая скорость равна 8 с^{-1} , а центробежное ускорение равно 128 м/с^2 . Ответ дайте в метрах.

Ответ: _____.

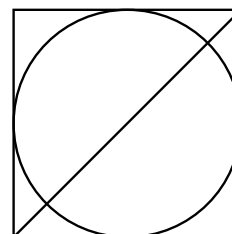
10) Укажите решение системы неравенств

$$\begin{cases} x < 3, \\ 4 - x > 0. \end{cases}$$



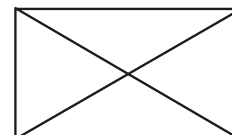
Ответ.

11) Радиус вписанной в квадрат окружности равен $16\sqrt{2}$. Найдите диагональ этого квадрата.



Ответ: _____.

12) Диагональ прямоугольника образует угол 61° с одной из его сторон. Найдите острый угол между диагоналями этого прямоугольника. Ответ дайте в градусах.



Ответ: _____.

13

Баржа прошла по течению реки 32 км и, повернув обратно, прошла ещё 24 км, затратив на весь путь 4 часа. Найдите собственную скорость баржи, если скорость течения реки равна 5 км/ч.

Решение.

Ответ:


14

Постройте график функции

$$y = \frac{(0,75x^2 - 2,25x) \cdot |x|}{x - 3}$$

Определите, при каких значениях m прямая $y = m$ не имеет с графиком ни одной общей точки.

Решение.



Ответ:

15

Точка H является основанием высоты BH , проведённой из вершины прямого угла B прямоугольного треугольника ABC . Окружность с диаметром BH пересекает стороны AB и CB в точках P и K соответственно. Найдите BH , если $PK = 11$.

Решение.

Ответ: